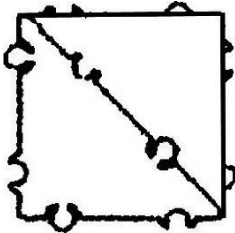
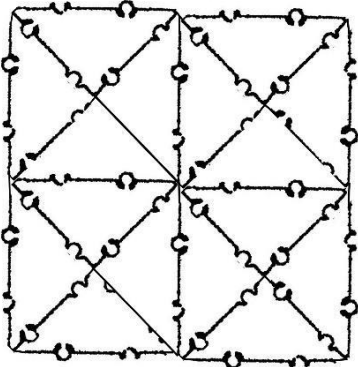
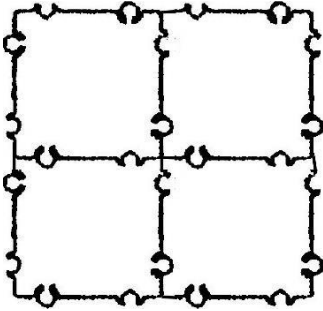
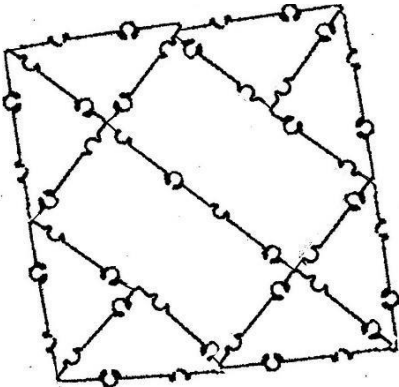
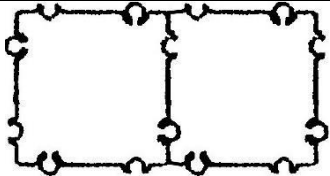
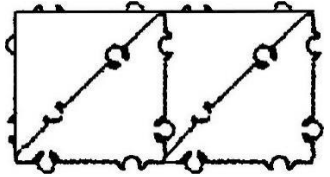
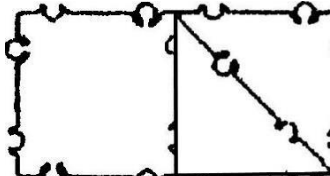
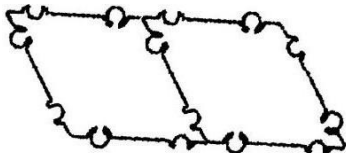
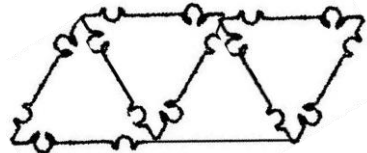

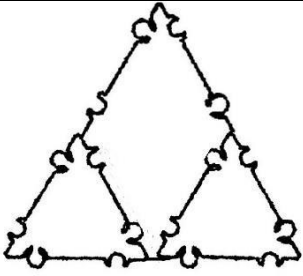
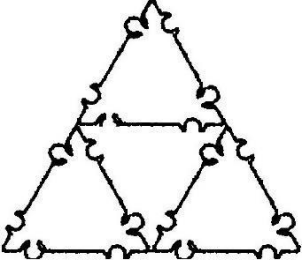
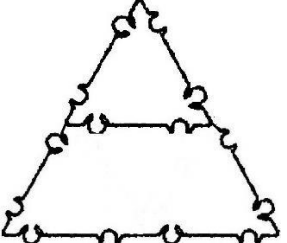
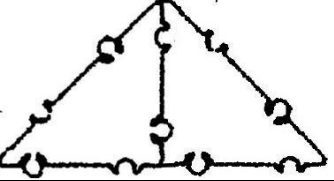
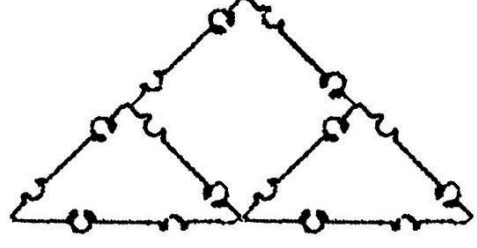


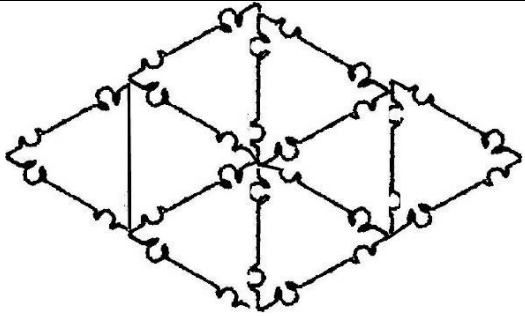
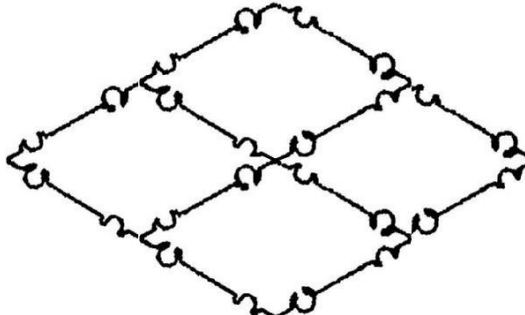
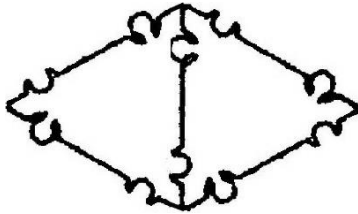
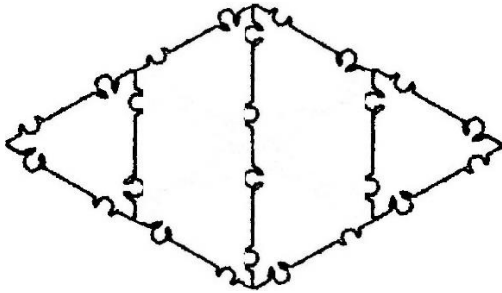
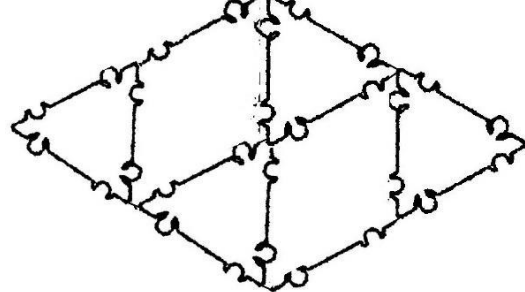
## Логические задания на замещение геометрических фигур

Конструирование квадрата	
Сконструируйте квадрат из двух прямоугольников.	
Сконструируйте квадрат из прямоугольника и двух маленьких квадратов.	
Сконструируйте квадрат из восьми прямоугольных треугольников.	
Сконструируйте квадрат из четырех прямоугольных треугольников.	

<p>Сконструируйте квадрат из двух прямо угольных треугольников.</p>	
<p>Сконструируйте квадрат из 16 прямоугольных треугольников.</p>	
<p>Сконструируйте квадрат из четырех маленьких квадратов.</p>	
<p>Сконструируйте квадрат из двух прямоугольников и восьми прямоугольных треугольников.</p>	
<p>Конструирование прямоугольника</p>	
<p>Сконструируйте прямоугольник из двух квадратов.</p>	

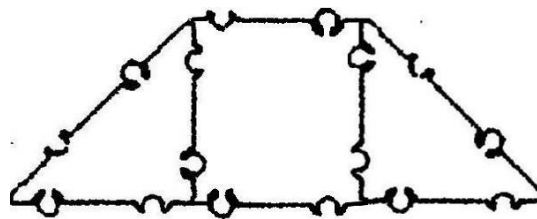
	
Сконструируйте прямоугольник из четырех прямоугольных треугольников.	
Сконструируйте прямоугольник из квадрата и двух прямоугольных треугольников.	
Конструирование параллелограмма	
Сконструируйте параллелограмм из двух ромбов.	
Сконструируйте параллелограмм из четырех равносторонних треугольников.	
Сконструируйте параллелограмм из трапеции и равностороннего треугольника.	
Конструирование равностороннего треугольника	
Сконструируйте большой равносторонний треугольник из ромба и двух маленьких равносторонних треугольников.	

	
<p>Сконструируйте большой равносторонний треугольник из четырех маленьких.</p>	
<p>Сконструируйте большой равносторонний треугольник из трапеции и одного маленького равностороннего треугольника.</p>	
<p>Конструирование прямоугольного треугольника</p>	
<p>Сконструируйте большой прямоугольный треугольник из двух маленьких.</p>	
<p>Сконструируйте прямоугольный треугольник из квадрата и двух прямоугольных треугольников.</p>	
<p>Конструирование ромба</p>	
<p>Сконструируйте большой ромб из восьми равносторонних треугольников.</p>	

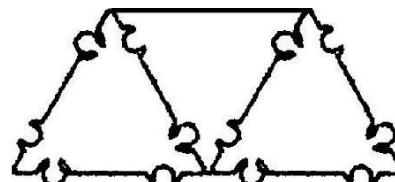
	
<p>Сконструируйте большой ромб их четырех маленьких.</p>	
<p>Сконструируйте ромб из двух равносторонних треугольников.</p>	
<p>Сконструируйте ромб из двух трапеций и двух равносторонних треугольников.</p>	
<p>Сконструируйте ромб из двух маленьких ромбов и четырех равносторонних треугольников.</p>	

### Конструирование трапеции

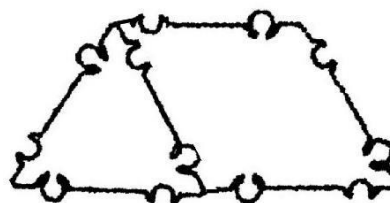
Сконструируйте трапецию из маленького квадрата и двух прямоугольных треугольников.



Сконструируйте трапецию из трех равносторонних треугольников.

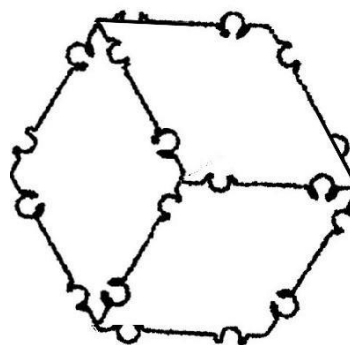


Сконструируйте трапецию из ромба и равностороннего треугольника.

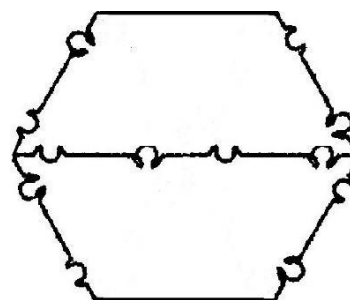


### Конструирование шестиугольника

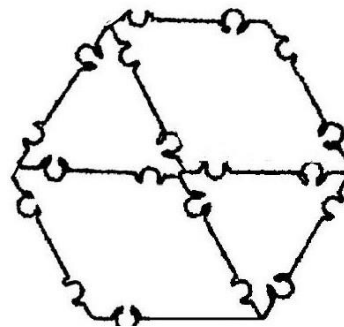
Сконструируйте шестиугольник из трех ромбов.



Сконструируйте шестиугольник из двух трапеций.



Сконструируйте шестиугольник из двух ромбов и двух равносторонних треугольников.



Сконструируйте шестиугольник из шести равносторонних треугольников.

